

Тест по географии для 5 класса за 1 полугодие

Часть А

- A1. Термин «география» принадлежит греческому учёному
1) Геродоту 3) Эратосфену
2) Гомеру 4) Аристотелю
- A2. Первое кругосветное путешествие совершил
1) М. Поло 3) Х. Колумб
2) А. Никитин 4) Ф. Магеллан
- A3. Период вращения Земли вокруг своей оси равен
1) 12 часов 2) 24 часа 3) 365 суток 4) 366 суток
- A4. Ближайшей к Солнцу планетой является:
1) Меркурий; 2) Уран; 3) Земля; 4) Сатурн.
- A5. Стороны горизонта определяют при помощи
1) нивелира 2) компаса 3) термометра 4) линейки
- A6. Определите, какой из масштабов наибольший
1) 1 : 1000 3) 1 : 10000
2) 1 : 5000 4) 1 : 500000
- A7. 1) если численный масштаб 1 : 100 000, то это означает что...
1) в 1 см – 100 000 км; 2) в 1 см – 1 000 км; 3) в 1 см 1 км?
- A8. Какому азимуту соответствует направление на запад
1) 0 ° 3) 180 °
2) 90 ° 4) 270 °
- A 9. Назовите направление противоположное ЮЗ: а) СВ, б) ЮВ, в) СЗ.
- A10. Превышение точки земной поверхности над другой точкой по отвесной линии называется
1) относительная высота 3) высота
2) абсолютная высота 4) горизонталь
- A11. Условная линия, соединяющая точки с одинаковой высотой над уровнем моря, - это
1) азимут 3) горизонт
2) бергштрих 4) горизонталь
- A12. Уменьшенное изображение поверхности Земли на плоскости при помощи условных знаков, называется
1) рисунок 3) географическая карта
2) аэрофотоснимок 4) схема
- A13. Площадь поверхности нашей планеты составляет
1) 170 000 км² 3) 510 000 000 км²
2) 40 000 км 4) 20 000 км
- A14. Географическая широта бывает
1) западной и северной 3) южной и северной
2) западной и южной 4) западной и восточной
- A15. Линии, проведенные параллельно экватору называются
1) параллели 3) меридианы
2) горизонтали 4) изобаты
- A16. Список всех условных знаков, которые использованы на карте называется
1) план 2) легенда 3) рассказ 4) шкала

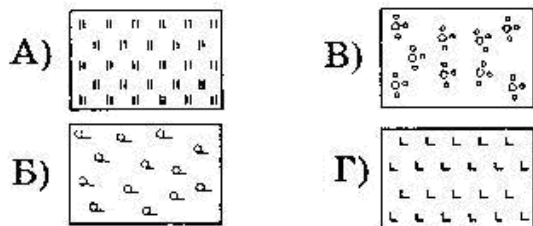
Ответьте на вопросы:

17. Если мы идем на северо-восток, в каком направлении мы будем возвращаться?
18. Чему равен азимут на восток?
19. Если расстояние на плане равно 3, 5 см, а масштаб плана в 1 см 500 м, чему равно расстояние на местности?
20. Какая бывает широта? _____ и

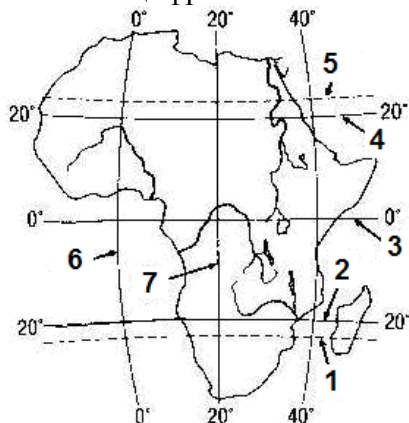
Часть В

Ответом к заданиям этой части (В1 – В4) является слово или число. Впишите ответы в бланк справа от номера соответствующего задания.

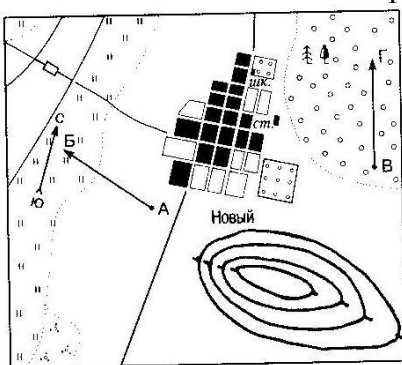
В1. Подпишите, какой условный знак изображен на рисунке под буквой В



В2. Какой цифрой показан на карте Африки Южный тропик?



В3. Какой склон холма изображенного на рисунке более крутой?



В4. По какому азимуту нужно идти, чтобы попасть из точки М в точку К? Ответ запишите цифрами.

